

9. UNITATEA

Matematika

SA

Izen-abizenak:

Maila: Eguna:

1 Honako magnitude hauetatik, zein dira zuzenean proportzionalak?

- a) Triangelu alde baten alde eta perimetroa.
- b) Pertsona baten adina eta altuera.
- c) Autobusetako billeteak eta prezioa.

2 Osatu proportzionaltasun zuzeneko taula hau:

EDUKIERA (1)	1	2	3	4		
PREZIOA (€)	1,50				7,50	9

3 6 patata-tortilla egiteko, 30 arrautza erabili dira. Zenbat arrautza behar dira 12 tortilla egiteko? Osatu taula.

TORTILLAK		
ARRAUTZAK		

4 Entziklopedia batek 16 liburuki ditu. Jonek 64 ordaindu du 4 liburuki. Zenbat ordaindu beharko ditu gainerakoak, denek prezio bera badute? Osatu taula.

LIBURUKIAK		
PREZIOA (€)		

5 Gozotegi batean 5 pastelak 6 € balio dute. Kalkulatu 10 eta 15 pastelen prezioa. Osatu taula.

PASTELAK	5		
PREZIOA (€)	6		

9. UNITATEA

Matematika

SA

Izen-abizenak:

Maila: Eguna:

6 Osatu.

- a) Autoa erostean % 15eko deskontua egiten badidate, % ... ordaindu behar dut.
- b) Txirrindulari batek etaparen % 70 egin du, % ... falta zaio.
- c) Zingira bateko uraren % 5 lurrundu da, % ... geratzen da.

7 Osatu taula.

EHUNEKOAK	% 30		% 65	% 90	% 75	% 60
ZATIKA		$\frac{58}{100}$				

8 Kalkulatu.

- a) 900en % 20 =
- b) 3 000ren % 54 =

9 Martak 280 €-ko bizikleta bat erosi du, baina % 15eko deskontua egin diote. Zenbat ordaindu du?

.....

10 Potoko puxtarrien % 25 gorriak dira. Potoan 25 puxtari gorri badaude, zenbat puxtari daude guztira?

.....

9. UNITATEA

Matematika

ZA

Izen-abizenak:

Maila: Eguna:

1 Osatu proportzionaltasun zuzeneko taula hauek:

2	3	4		
5			12,5	15

6	7	8		
		2	2,25	2,5

			5	6
4	6	8		12

5	6			12
2,5		4	1,5	

2 6 iduneko berdin egiteko, Gabirelek 510 perla erabili ditu. Zenbat perla beharko ditu 9 iduneko egiteko? Eta 15 iduneko egiteko? Zenbat iduneko egin dezake 255 perlarekin? Osatu taula.

IDUNEKOAK	6	9	15	
PERLAK	510			255

3 Puxtarrri batek 0,50 € balio du. Osatu taula.

PUXTARRIAK	1	2	3	4	5	6	7	8	9	10
PREZIOA (€)	0,50									

4 Patxi sukaldariak 48 erroskilla sartu ditu sei poltsatan. Zenbat erroskilla beharko ditu 13 poltsa betetzeko?

ERROSKILLAK		
POLTSAK		

.....

5 Elisabetek egiten dituen 4 metroko, aitak 5 metro egiten ditu. Zenbat metro egin ditu Elisabetek, aitak 17 metro egin baditu?

ELISA	4 m	
AITA	5 m	17 m

.....

9. UNITATEA

Matematika

ZA

Izen-abizenak:

Maila: Eguna:

- 6 100 gramo platanok 340 kaloria ematen dizkigu. Zuriñek 175 gramo platano jan ditu. Zenbat kaloria hartu ditu?

.....

- 7 Osatu esaldi hauek:

a) Akuarioko arrainen laurden bat horiak dira.

% ... horiak dira.

b) Urmaeleko uraren bosten bat lurrundu egin da.

Uraren % ... lurrundu da.

- 8 Osatu taula.

	80ren	200en	350en	500en	750en
% 10					
% 15					
% 25					
% 40					

- 9 24 ikasleko ikasgela batean 6 saskibaloian aritzen dira. Zer ehuneko aritzen da saskibaloian?

.....

- 10 Albertok 135 kaxa sartu ditu furgonetan, biltegiko totalaren % 75, alegia. Zenbat kaxa zeuden biltegian?

.....

9. UNITATEA

Matematika




AGA

Izen-abizenak:

Maila: Eguna:

PENTSAMENDU LOGIKOA

Lehenengo bi irudietan indarrak parekatuta daude. Nork irabaziko du jokoa hiru-garren irudian?



9. UNITATEA

Matematika

AGA

Izen-abizenak:

Maila: Eguna:

ARRETA/PERTZEPZIOA

Bilatu bost lore hauen berdin-berdinak, eta jarri dagozkien zenbakiak:

