

5. UNITATEA

Matematika

SA

Izen-abizenak:

Maila: Eguna:

1 Adierazi zenbaki positiboekin edo negatiboekin:

- a) Hiria itsas mailatik 750 metro gainetik dago. →
- b) Urpekaria gainzaletik 30 metrora dago. →
- c) Errosek 5 000 euro ditu. →
- d) Atzoko tenperatura minimoa bi gradukoa izan zen zero azpitik. →
- e) Eiffel dorreak 300 metroko altuera du. →

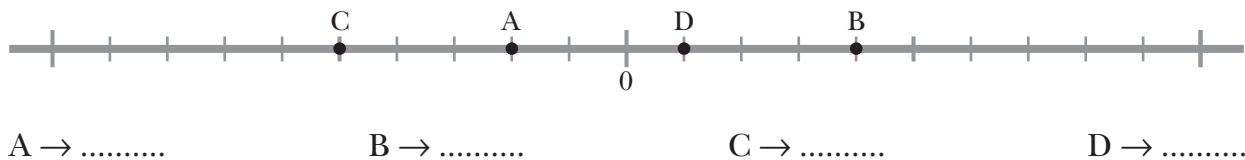
2 Igogailu bat hirugarren sototik bosgarren pisura joan da. Zenbat solairu igo ditu?

.....

3 Kasu bakoitzean, idatzi aurreko eta ondorengo zenbakiak.

- a) ← +1 →
- b) ← -1 →
- c) ← 0 →
- d) ← +2 →
- e) ← -2 →
- f) ← -3 →

4 Zer zenbaki adierazten du letra bakoitzak zenbakien zuzenean?



5 Marinak jolastokiko termometroak urtarrileko azken astean erregistratutako tenperaturak idatzi ditu. Ordenatu tenperaturak txikienetik beroenera:

Al.	Ar.	Az.	Og.	Or.
-3	-1	+2	0	+3

.....

5. UNITATEA

Matematika

SA

Izen-abizenak:

Maila: Eguna:

6 Ordenatu txikienetik handienera:

a) $-3, +5, -2, 0, -4 \rightarrow$

b) $-3, 0, -1, -6, +2 \rightarrow$

7 Osatu karratu magiko hauek:

	+3	-4
	-1	
+2		0

0	+2	+4
+5	-2	

8 Kalkulatu.

a) $(-3) + (-2) =$

c) $(-5) + (+9) =$

b) $(+4) + (+3) =$

d) $(+7) + (-10) =$

9 Lau gradu zero azpitik egiten zuen. Ondoren, tenperatura zazpi gradu jaitsi zen, eta, azkenik, bost gradu igo. Zer tenperatura markatzen du termometroak?

.....

10 Goizeko zazpitan hiru gradu egiten zuen zero azpitik. Eguerdiko hamabietan, zazpi gradu egin zuen gora tenperaturak. Zenbat gradu markatzen ditu termometroak?

.....

5. UNITATEA

Matematika

ZA

Izen-abizenak:

Maila: Eguna:

1 Adierazi zenbaki positiboekin edo negatiboekin:

a) 15 gradu zero azpitik. →

b) 12 euro zor ditut. →

c) 1 500 m itsasoaren mailaren gainetik. →

d) 20° C zero azpitik. →

2 Adierazi zenbakien zuzenean zenbaki hauek:

$$A = -3 \quad B = +3 \quad C = -1 \quad D = +1$$



3 Idatzi falta diren zenbakiak

a) $-4 < \dots < \dots < \dots < 0$

b) $-1 > \dots > \dots > \dots > -5$

c) $+2 > \dots > \dots > \dots > \dots > -4$

4 Ordenatu tenperatu hauek, baxuenetik hasita:

$$+3 \text{ } ^\circ\text{C} \quad 0 \text{ } ^\circ\text{C} \quad -2 \text{ } ^\circ\text{C} \quad +4 \text{ } ^\circ\text{C} \quad -3 \text{ } ^\circ\text{C} \quad -1 \text{ } ^\circ\text{C}$$

.....

5 Euklides K.a. 300 urtean jaio zen, eta Pitagoras, 280 urte geroago. Zer urtetan jaio zen Pitagoras?

.....

5. UNITATEA

Matematika

ZA

Izen-abizenak:

Maila: Eguna:

6 Kalkulatu.

a) $(+10) + (-5) + (+7) + (-9) = \dots\dots\dots$

b) $(-15) + (+5) + (-3) + (+10) = \dots\dots\dots$

c) $(-5) + (+2) + (+3) + (-1) = \dots\dots\dots$

d) $(+3) + (-6) + (+5) + (-2) = \dots\dots\dots$

e) $(-8) + (-3) + (+6) + (+10) = \dots\dots\dots$

7 Osatu taula.

+	+3	-2	+1	0	-1
-3	0	-5			
+2					
-1					
0					
+1					

8 Idatzi karratu magiko honetan falta diren zenbakiak:

+9		-4	+6
+2	0		+5
	+4	+3	
-3	+7	+8	-6

5. UNITATEA

Matematika

















AGA





Izen-abizenak:

















Maila: Eguna:





PENTSAMENDU LOGIKOA

Kalkulatu zenbat balio duten frutek.

				18
				19
				17
				18
17	16	20	19	

				32
				28
				33
				27
33	30	28	29	

5. UNITATEA

Matematika

AGA

Izen-abizenak:

Maila: Eguna:

EGITURAKETA ESPAZIALA

Marraztu bi irudi gehiago segida bakoitzean.

