

4. UNITATEA

Matematika

SA

Izen-abizenak:

Maila: Eguna:

1 Bilatu zenbaki hauen lehenengo sei multiploak:

a) 6ren multiploak =

b) 20ren multiploak =

c) 12ren multiploak =

2 Biribildu 8ren multiploak.

16 25 32 41 55 64 70 72 88

3 3ren multiploa da 45? Zergatik?

.....

4 Lortu zenbaki hauen m.k.t.:

a) m.k.t. (6, 8) =

c) m.k.t. (9, 10) =

b) m.k.t. (10, 12) =

d) m.k.t. (5, 7) =

5 Zein da 2ren, 6ren eta 15en multiplo komunetako txikiena?

.....

4. UNITATEA

Matematika

SA

Izen-abizenak:

Maila: Eguna:

- 6 Zurgin batek listoi bat ebaki behar du 12 edo 15 cm-ko zatitan, egurrik sobera geratu gabe. Zenbatekoa izango da listoiaren luzera minimoa, hori horrela izateko?

- 7 Idatzi 48ren zatitzaileak:

1 2 3 5 6 7 8 12 24

.....

- 8 Idatzi, 2ren zatigarritasun-irizpidea erabiliz, zenbaki hauek 2rekin zatigarriak diren ala ez:

a) 46 →

c) 328 →

e) 505 →

b) 83 →

d) 694 →

f) 562 →

- 9 Honako zenbaki hauetatik, zein dira 3rekin zatigarriak?

a) 671

b) 345

c) 672

d) 912

e) 159

f) 629

.....

- 10 Idatzi 10en eta 30en arteko zenbaki lehenak.

.....

4. UNITATEA

Matematika

ZA

Izen-abizenak:

Maila: Eguna:

1 Honako zenbaki hauetatik, zein dira 15en multiploak?

45 65 75 95 105 125

2 Zer zenbakiren multiplo dira beti zenbaki bikoitiak?

.....

3 Kalkulatu.

a) M.k.t. (6, 12, 15) =

b) M.k.t. (8, 16, 24) =

4 Hiru listoi bata bestearen gainean jarri dira, hasierako muturrak bat eginda. Lehenengoa 8 cm-ko tarteekin markatu da, bigarrena, 10 cm-ko tarteekin, eta hirugarrena, 20 cm-ko tarteekin. Hiru markak bat etorri diren lekutik ebaki dira listoiak. Zenbateko luzera dute listoiak?

.....

5 Zenbatekoa da 5 dl, 6 dl eta 8 dl-ko botilekin bete daitekeen kubo baten edukiera minimoa?

.....

6 Honako zenbaki hauetatik, zein dira 500en zatitzaileak?

2 4 6 8 9 10 20 25 30

.....

4. UNITATEA

Matematika

ZA

Izen-abizenak:

Maila: Eguna:

- 7 Zer zifra jarriko zenuke 35 zenbakiaren eskuinean 3rekin zatigarria den hiru zifrako zenbaki bat lortzeko?

.....

- 8 Zein da 233 zenbakiari batu behar diozun zenbakirik txikiena, 5ekin zatigarria izateko? Eta zein da kendu behar diozun zenbakirik txikiena?

.....

.....

- 9 Zenbaki bat aldi berean 2rekin eta 3rekin zatigarria bada, zer beste zenbakirekin izango da zatigarria?

.....

- 10 Idatzi taula honetako zenbaki lehenak.

11	29	15	9	99
43	13	31	3	40
63	47	33	37	1
73	77	20	91	41
82	35	75	59	23

.....

4. UNITATEA

Matematika


AGA


Izen-abizenak:


Maila: Eguna:


PENTSAMENDU LOGIKOA


Osatu makinak hutsik dauden laukitxoetan jarriko dituen zenbakiak.

18	75	22	39	52	27	38	25		88	46	72	59	16
						3	2		8	4	7	5	1

14	27	33	58	65	41		46	28	51	13	88	11
							5	3	6	2	9	2

18	69	43	84	77		38	32	81	57	46	22	53
						4	3	8	6	5	2	5

15	50	36	45	28	47	82		18	27	55	69	80	38
								7	6	4	8	9	7

42	54	29	35	19	28		25	81	47	50	69	35	46
							6	2	8	1	0	6	7

4. UNITATEA

Matematika

AGA

Izen-abizenak:

Maila: Eguna:

SORMENA

Margotu hamar tximeleta, jakinda lerro horizontalean, bertikalean edo diagonalean hiru tximeleta bakarrik margotu ditzakezula.

